

【】 中学社会地理：人口の特色

[<http://www.fdtex.com/dat/>]

[要点]

- ・世界の人口：約 69.1 億人(2010 年)。6 割がアジア州に集中。

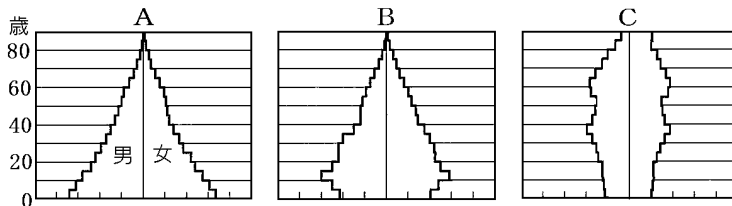
日本は約 1 億 2700 万人(2010 年)

1 位中国(13.4 億人，一人っ子政策を実施)，2 位インド(12.2 億人)

人口 3 億人台(アメリカ) 人口 2 億人台(インドネシア)

人口 1 億人台(ブラジル，ロシア連邦，パキスタン，バングラデシュ，日本，ナイジェリア，メキシコ)

- ・人口爆発：発展途上国でおこっている。原因は医療の発達による死亡率の低下(とくに乳幼児)。
- ・人口ピラミッド



A 富士山型：発展途上国(エチオピアなど)

B つりがね型：アメリカ合衆国

C つぼ型：日本，スウェーデン

日本は，A→B→C と推移。

- ・高齢化：日本は世界一の^{ちやうじゆ}長寿国。^{こうれい}高齢化が進み 65 歳以上の老年人口は 23%(2010 年) →高齢社会。
- ・少子化：出生率は年々低下し，年少人口が減少。今後さらに少子高齢化が進み高齢者福祉を支える生産年齢人口(15 歳～64 歳)が減っていくため，1 人あたりの負担が増えていくと予測される。
- ・(人口密度)=(人口)÷(面積 km²)
- ・人口の大半は太平洋ベルトに集中。東京，大阪，名古屋の三大都市圏に 40%が集中。
- ・^{かみみつ}過密：都市部への人口集中→交通渋滞，騒音，住宅不足，ゴミ問題を引き起こしている。
- ・^{かま}過疎：農村部などで人口が減少し→社会生活が困難になる。

[問題]

次の各問いに答えよ。

- (1) 世界の人口は約(49億, 59億, 69億)人である。
- (2) 近年, 世界の人口が急激に増加しているが,
 - ① この現象を何というか。
 - ② 世界のどのようなところでおこっているか。
 - ③ その最大の原因は何か。

[解答](1) 69億(2010年) (2)① 人口爆発 ② 発展途上国 ③ 医療の発達による死亡率の低下

[問題]

次の各問いに答えよ。

- (1) 人口が10億人をこえる国が2つある。多い順にあげよ。
- (2) 人口が2億~3億人の国が2つある。多い順にあげよ。
- (3) 人口が1億人台の国をあげよ。(中南米2, アジア3, アフリカ1, その他1)

[解答](1) 中国, インド (2) アメリカ合衆国, インドネシア (3) ブラジル, メキシコ, パキスタン, バングラデシュ, 日本, ナイジェリア, ロシア連邦

[問題]

次の各問いに答えよ。

- (1) 世界の人口が集中しているのは, どのような地域か。2つあげよ。
- (2) 資料中の a, b の地域(州)名を答えよ。
- (3) 国や地域の人口の出生率と死亡率の差を何というか。
- (4) 中国で実施されている人口抑制のための政策は何か。

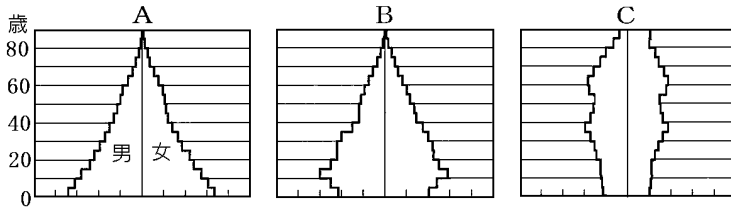
[解答](1) 先進国の都市部, アジアの稲作地帯 (2)a アジア州 b アフリカ州 (3) 人口増加率 (4) 一人っ子政策

面積	人口
a 23.5%	a 60.3%
b 22.3%	b 14.8%
北アメリカ 17.9%	c 10.7%
c 16.9%	北アメリカ 南アメリカ
南アメリカ オセアニア	

(2009年)

[問題]

次の各問いに答えよ。

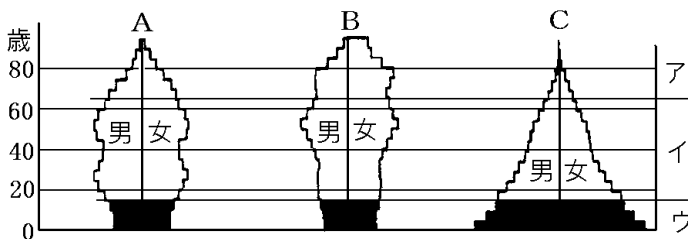


- (1) 資料のようなグラフを何というか。
- (2) 戦前の日本や、現在の発展途上国のように出生率と死亡率が高い場合、年少人口が多く、老年人口が少なくなる。この場合のグラフはA～Cのどれになるか。
- (3) 日本の人口構成はどのように変化してきたか。A～Cを古い順に並べよ。
- (4) 図のA, B, Cはそれぞれ何型というか。
- (5) 老年人口の比率が7%を越えると、普通、人口の(①)化が進んでいると言われるが、現在はすでに23%を突破している。今後はもっと(①)化が進むと予想されている。また出生率は年々低下し、いわゆる(②)化も進んでいる。その結果、高齢者福祉を支える③(産業別/生産年齢/年少)人口が減っていくため、1人あたりの負担が④(減って/増えて)いく。

[解答](1) 人口ピラミッド (2) A (3) A, B, C (4) A 富士山型 B つりがね型 C つぼ型
 (5)① 高齢 ② 少子 ③ 生産年齢 ④ 増えて

[問題]

次の各問いに答えよ。



- (1) 図のア, イ, ウはそれぞれ何人口というか。
- (2) イは何歳から何歳までか。
- (3) 世界一の長寿国はどこか。
- (4) 総人口に占めるアの人口の割合が高い社会を何というか。
- (5) 少子化をまねく原因はどのようなことか。簡潔に書け。

[解答](1)ア 老年人口 イ 生産年齢人口 ウ 年少人口 (2) 15 歳から 64 歳 (3) 日本 (4) 高齢社会 (5) 女性 1 人あたりが出産する子どもの数が減少したこと。

[問題]

次の各問いに答えよ。

- (1) 現在の日本の人口は何人か。次の[]から選べ。
[1 億 700 万人 1 億 1700 万人 1 億 2700 万人]
- (2) 人口の集中のぐあいを見るために、面積 1 平方キロメートルあたりに平均した人数を何というか。
- (3) 日本の面積 38 万 km²、人口 1 億 3000 万人として(2)を計算せよ。(小数点以下を四捨五入して整数で答えよ。)

[解答](1) 1 億 2700 万人(2010 年) (2) 人口密度 (3) 342 人

[問題]

次の各問いに答えよ。

- (1) 人口が都市圏に集中しすぎる現象を何というか。
- (2) (1)はどのような都市問題を引き起こしているか。2 つあげよ。
- (3) 関東－東海－近畿－瀬戸内－北九州とつながる人口が集中している帯状の地域は(A)とよばれている。その中でもの三大都市圏に人口が集中している。三大都市とは(B)の 3 つである。
- (4) 人口が過密な地域の郊外につくられた、大規模な住宅地を何というか。
- (5) 東京都において昼の人口が夜の人口を大きく上回っているのはなぜか。「居住、通勤や通学」の語を使って説明せよ。
- (6) かつて、都心部の人口が減少し、周辺部で人口が増加する(A)現象が顕著であったが、近年の地価の下落によって再開発がすすみ、都心部の人口が増える(B)現象が起きている。

[解答](1) 過密 (2) 交通渋滞, 住宅不足(大気汚染, ごみ問題) (3)A 太平洋ベルト B 東京, 大阪, 名古屋 (4) ニュータウン (5) 居住している近隣の県から、東京都内に通勤や通学をしている人が多いから。 (6)A ドーナツ化 B 都心回帰

[問題]

次の各問いに答えよ。

- (1) 農村部などで人口が減少し、社会生活が困難になる現象を何というか。
- (2) (1)の地域で生じてくる問題はどんなことか。
- (3) (1)の地域の中で、高齢化が極端に進み、65歳以上の人口が過半数をしめる集落がある。
このような集落を何というか。
- (4) 村おこしにはどのようなものがあるか。1つ例をあげよ。

[解答](1) 過疎 (2) 様々な公共施設・サービスが維持できなくなり、社会生活が成り立たなくなる事。 (3) 限界集落 (4) 村の特産品の開発

[印刷／他の PDF ファイルについて]

※ このファイルは、FdText 社会(6,600 円)の一部を PDF 形式に変換したサンプルで、印刷はできないようになっています。製品版の FdText 社会は Word(または一太郎)の文書ファイルで、印刷・編集を自由に行うことができます。

※ 弊社は、FdText のほかに FdData 中間期末過去問(社会・理科・数学)(各 18,900 円)(Word 版・一太郎版)を販売しております。PDF 形式のサンプル(全内容)は、

<http://www.fdtype.com/dat/> に掲載しております。

下図のような、[FdData 無料閲覧ソフト(RunFdData)]を、Windows のデスクトップ上にインストールすれば、FdData 中間期末・FdData 入試の全 PDF ファイル(各教科約 1500 ページ)を自由に閲覧できます。次のリンクを左クリックするとインストールが開始されます。

RunFdData(Word 版) 【 <http://fddata.deci.jp/lnk/instRunFdDataWDs.exe> 】

RunFdData(一太郎版) 【 <http://fddata.deci.jp/lnk/instRunFdDataTAs.exe> 】

※ダイアログが表示されたら、【実行】ボタンを左クリックしてください。インストール中、いくつかの警告が出ますが、[実行][許可する][次へ]等を選択します。

【イメージ画像】



【Fd 教材開発：URL <http://www.fdtype.com/dat/> Tel (092) 404-2266】