

【】 鎌倉幕府の成立と執権政治


【】 鎌倉幕府の成立

[源頼朝の挙兵]

[問題 1]

1180年、右の肖像画の人物は、平氏追討の命令を受けて伊豆で兵を挙げた後、山と海に囲まれて守りやすい鎌倉を本拠地にして指揮をとった。この肖像画の人物は誰か。

(補充問題)

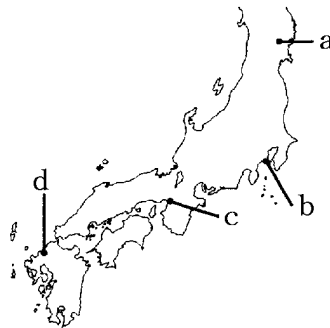


源頼朝

[問題 2]

源頼朝が本拠地にした鎌倉の位置を右の略地図のa～dから選べ。

(北海道)

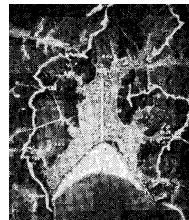


b

[問題 3]

源頼朝は、鎌倉を本拠地に定め、幕府を置いた。その理由を右の資料から読み取れることを含めて書け。

(石川県)



山と海に囲まれているので守りやすかったから。

[問題 4]

平氏が滅んだ戦いはどれか。次の[]から選べ。

[壇ノ浦の戦い 関ヶ原の戦い 白村江の戦い

桶狭間の戦い]

(栃木県)

壇ノ浦の戦い

[問題 5]

次の各問いに答えよ。

- (1) 壇ノ浦で平氏を滅亡させた源氏の武将は誰か、次から選べ。

[源義家 源義経 源義朝
源義仲]

- (2) 壇ノ浦の戦いが行われた場所を、右の地図中のア～エから1つ選べ。

(茨城県・三重県)



(1) 源義経

(2) エ

[守護と地頭の設置：鎌倉幕府の成立]

[問題 6]

次の文中の①、②の()内からそれぞれ適語を選べ。

- 源頼朝は、①(源義経／平清盛)を捕らえることを理由として、②(国司と郡司／守護と地頭)を各地に置くことを、朝廷に認めさせた。

(愛媛県)

① 源義経

② 守護と地頭

[問題 7]

次の各問いに答えよ。

- (1) 国ごとに置かれ、謀反や殺人などの犯罪人を取りしめることが職務の一つに定められた役職は何か。

- (2) 武士の中には、幕府の将軍からの御恩として、荘園や公領の年貢徴収と土地の管理などを行う職に任命される者もいた。この職を何というか。

(石川県・徳島県)


(1) 守護

(2) 地頭

[問題 8]

次の文章中の①～③に適語を入れよ。

右図は(①)と伝えられる人物の肖像である。(①)は平氏を滅ぼした後、対立していた自分の弟である(②)をかくまったという理由で奥州(③)氏を攻め滅ぼした。



① 源頼朝

② 源義経

③ 藤原

(福島県改)

[問題 9]

次の各問いに答えよ。

(1) 鎌倉幕府の中央に置かれた役職で、御家人をまとめ軍事をあつかったのは何か。

(1) 侍所

(2) 問注所とはどのような仕事を担当する役職か。漢字 2 字で答えよ。

(2) 裁判

(補充問題)

【】 御恩と奉公・武士の生活

[御恩と奉公]

[問題 10]

次の文章中の①，②に適語を入れよ。

鎌倉時代には，将軍と主従関係を結んだ武士は御家人とよばれた。将軍は，御家人に対して，先祖代々伝わる領地の支配を認め，守護や地頭に任命したり，てがらに応じて新たな領地を与えたりした。このことを(①)という。その一方で，御家人は将軍に忠誠を誓い，鎌倉や京都などの警備を行ったり，合戦の際には命がけで戦ったりした。このことを(②)という。
(高知県改)

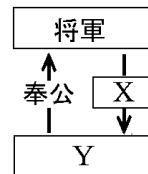
① 御恩

② 奉公

[問題 11]

右図は鎌倉幕府を支えていた主従関係を表したものである。X，Y にあてはまる語を，それぞれ書け。

(秋田県)



X 御恩

Y 御家人

[問題 12]

次の各問いに答えよ。

- (1) 将軍と主従関係を結んだ武士は何とよばれたか。
- (2) (1)は，ふだん京都や鎌倉の警備をし，戦時には一族をひきつけて戦うなどの義務を負っていたが，この義務を何というか。漢字 2 字で書け。

(佐賀県・山形県)

(1) 御家人

(2) 奉公

[問題 13]

鎌倉時代の「御恩と奉公」について，「御恩」とは誰が誰に対して行うことか。次の①，②に適語を入れよ。

(①)が(②)に対して，土地や官職を与えること。

(福井県)

① 将軍

② 御家人

[問題 14]

鎌倉時代の将軍と御家人の関係を記した次の文のX内に適する内容を、「領地」という語句を用いて簡潔に書け。

将軍が御家人に対して(X)ことなどにこたえて、御家人が戦さのときに一族を率いて戦うことなどで成り立つ主従関係。

(長崎県)

領地を保護し、新たに領地を与えたりする

[問題 15]

鎌倉幕府において、御家人たちは、将軍からの「御恩」に対して、「奉公」にはげんだ。御家人たちは、「奉公」としてどのようなことを行ったか、「合戦」「警備」という語句を使って簡単に説明せよ。

(山形県改)

合戦に出て戦ったり、京都や鎌倉の警備に出たりすること。

[武士の生活]

[問題 16]

武士は、日ごろから馬や弓矢の武芸にはげみ、心身をきたえていた。また、戦いのときは、一族の長である(管領／組頭／郡司／惣領)を中心にして、一族がまとまって行動した。文中の()より適語を選べ。

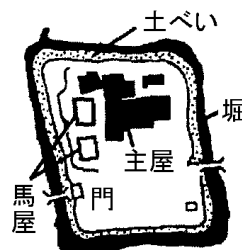
(三重県)

惣領

[問題 17]

右の資料は、鎌倉時代の武士の館を示した図である。この図を参考にして、武士の館の特徴を、「防備」の語句を用いて簡潔に書け。

(奈良県)



土べいや堀を周囲にめぐらせて防備しやすいつくりになっていた。

【】 執権政治・承久の乱・御成敗式目

[執権政治]

[問題 18]

源頼朝は、地形的な利点の多い鎌倉を本拠地に定め、幕府を開いた。頼朝の死後、北条氏が幕府の実権をにぎり、将軍の力を弱めて(X)の地位につき、その地位を独占して(X)政治を行った。文中の X に適語を入れよ。

(岐阜県)

執権

[問題 19]

次の文中①の()内より適語を選べ。また、②の()内に適語を入れよ。

鎌倉時代、将軍の補佐役である①(老中／管領／摂政／執権)の地位についての(②)氏は、次第に幕府の実権を握り政治を動かすようになっていった。

(栃木県改)

① 執権

② 北条

[承久の乱]

[問題 20]

源頼朝の死後、将軍が暗殺される事件がおこるなど、鎌倉幕府の政治は混乱した。この混乱の中で、後鳥羽上皇は 1221 年に幕府をたおすために兵をあげた。後鳥羽上皇が幕府をたおすために兵をあげたこのできごとは何と呼ばれるか。その呼び名を書け。

(香川県)

承久の乱

[問題 21]

次の文を読んで、後の各問いに答えよ。

源頼朝の死後、幕府の実権は北条氏に移り、有力な御家人の争いが続いた。第3代将軍の源実朝が殺害される事件が起きると、幕府の動揺を好機とみた上皇は、1221年に、執権北条義時追討の命令を出し、幕府を倒そうと兵をあげた。

(1) 文章中の下線部の上皇とはだれのことか。

(2) このできごとを何というか。

(鹿児島県・茨城県)

(1) 後鳥羽上皇

(2) 承久の乱

[問題 22]

次の史料は、源頼朝の妻で尼将軍と呼ばれた人物が、ある争乱の際に武士たちに訴えた内容の要約である。

みなの者、よく聞きなさい。これが最後の言葉です。頼朝公が朝廷の敵をたおし、幕府を開いてこのかた、あなたたちが受けた御恩は山よりも高く、海よりも深いものでした。それに報いたいという志は浅くないはずです。名誉を大事にする者は、京都に向かって出陣し、逆臣を討ち取り、幕府を守りなさい。

(1) この訴えがおこなわれたのは、何という争乱がおきたときか。その争乱の名称を書け。

(2) この訴えをおこなった源頼朝の妻であった人物の名前を答えよ。

(3) 下線部の「みなの者」とは何と呼ばれる武士か。

(長崎県・栃木県)

(1) 承久の乱

(2) 北条政子

(3) 御家人

[問題 23]

次のア～エは、平安時代末から鎌倉時代にかけての戦乱である。古い順に並べかえ、記号を書け。

ア 後鳥羽上皇が承久の乱をおこした。

イ 源義経が壇ノ浦の戦いで平氏を破った。

ウ 平清盛が平治の乱で源氏を破った。

エ 源頼朝が奥州藤原氏を滅ぼした。

(大分県)

ウ→イ→エ→ア

[承久の乱の結果]

[問題 24]

承久の乱の後、鎌倉幕府が朝廷を監視し、西日本の御家人を統制するために設置した機関を何というか、次の中から1つ選べ。

六波羅探題

[京都所司代 大宰府 六波羅探題 問注所]

(和歌山県)

[問題 25]

次の文中の①, ②に適語を入れよ。

源氏の将軍が絶えると、1221年に後鳥羽上皇は鎌倉幕府をたおそうとして兵を挙げた。幕府は後鳥羽上皇を破って(①)に流し、朝廷を監視するため(②)を京都に置いた。

① 隠岐

② 六波羅探題

(千葉県改)

[問題 26]

六波羅探題は、鎌倉幕府の成立当初には設置されておらず、1221年に起こった承久の乱の後に京都に設置された。鎌倉幕府が承久の乱の後に六波羅探題を設置したねらいを、「朝廷」の語を使って、簡潔に書け。

幕府が朝廷を監視するため。

(高知県)

[問題 27]

次の X に当てはまる内容を「土地」「東日本の武士」という2つの語句を用いて書け。

鎌倉幕府が成立したころ、その支配の及ぶ範囲は限られていた。しかし、承久の乱の後、京都に六波羅探題において朝廷を監視するとともに、(X)ことで西日本にも幕府の力が広く及ぶようになった。

上皇に味方した貴族や西日本の武士の土地を取り上げ、その場所の地頭に東日本の武士を任命した

(岡山県)

[問題 28]

承久の乱の影響について述べた次の文中の①～③の()内からそれぞれ適語を選べ。

この乱の結果、①(朝廷／幕府)の支配が、②(東日本／西日本)だけでなく、③(東日本／西日本)にもおよぶこととなった。

(新潟県)

① 幕府
② 東日本
③ 西日本

[問題 29]

承久の乱の後、幕府の支配力はどのように変化したか、簡潔に書け。

(群馬県)

幕府の支配力は東日本だけでなく西日本にまで及ぶようになった。

[地頭の荘園侵略]

[問題 30]

右の資料は、土地を地頭と領家(荘園領主)とに分けたことを示す絵図である。この説明として適切なものを、次のア～エの中から1つ選び、その記号を書け。



ア 地頭が登場した奈良時代のもので、当時の土地の支配のようすを知ることができる。

イ 地頭が登場した平安時代のもので、当時の土地の支配のようすを知ることができる。

ウ 地頭が力を強めてきた鎌倉時代のもので、地頭が荘園領主と同等の力を持って土地を支配しているようすを知ることができる。

エ 地頭が地方の行政官として派遣された戦国時代のもので、荘園領主と協力し合って土地を支配しているようすを知ることができる。

(青森県)

ウ

[問題 31]

地頭の勢力が強くなり荘園への支配権を拡大していったため、荘園領主との間で争いが激しくなった。荘園領主は幕府に訴えて地頭の年貢未納をおさえようとした。しかし、現地に根を下ろした地頭の行動を阻止することは難しかったため、荘園の半分を地頭に分ける妥協などが行われた。下線部を何というか。漢字 4 字で答えよ。

(補充問題)

下地中分

[問題 32]

次の資料は、鎌倉時代に、紀伊国の荘園の農民が書いた訴状の一部である。資料から、鎌倉幕府が成立したのちに、農民がだれから負担を課せられていたかが読み取れる。鎌倉幕府が成立したのち、農民はだれから負担を課せられていたか。資料の中の語を用いて、鎌倉幕府が成立する前との違いが分かるように、簡単に書け。

(資料)

荘園領主様への材木の納入が遅れていることについてですが、地頭が、上京する時や近くでの工事の時などに人夫が必要だと言っては大勢の者をこき使いますので、暇がありません。残ったわずかの者で山から材木を運ぼうとしたところ、逃亡した農民の耕地に麦をまけと、地頭に追い返されてしまいました。

(静岡県)

荘園領主に加えて、地頭からも負担を課せられていた。

[御成敗式目]

[問題 33]

次の文は、北条泰時が御家人の権利や義務などの武家社会の慣習を法律としてまとめたものの一部である。この法律を何というか。

- 一 諸国の守護の職務は、京都の御所の警護と、謀反や殺人などの犯罪人をとりしめることである。
- 一 武士が、20 年をこえる間、実際にその土地を支配しているならば、その支配を認める。

(福島県)

御成敗式目

[問題 34]

①1232年に制定された、御家人の権利や義務などの武士の慣習や、裁判の基準についてまとめた法律を何というか。②また、この法律をつくった執権の名前を答えよ。

(山口県・愛媛県)

① 御成敗式目

② 北条泰時

[問題 35]

13世紀前半、鎌倉幕府は武士の社会の慣習をもとに御成敗式目を制定した。次の文は、御成敗式目について述べたものである。文中の①、②の()内からそれぞれ適語を選べ。

鎌倉幕府の三代執権の①(北条時政／北条泰時)は、武士の社会の慣習にもとづく法である御成敗式目を②(応仁の乱／承久の乱)の後に制定し、支配を全国に広げた。

(大阪府)

① 北条泰時

② 承久の乱

[問題 36]

次の資料は、鎌倉時代に定められた御成敗式目について書かれた手紙の一部の要約である。後の各問いに答えよ。

「ところでこの御成敗式目は何を根拠として制定したものかと、京都の公家たちが非難するかもしれない。そのとおりこれといった中国の書籍によったわけではなく、ただ武家社会の道理を書き記したものである。こうした規定を前もって制定しておかないと、幕府の裁判において事実の真理によらず、原告と被告の力のちがいによって判決がなされたり、以前の判決の例を無視して裁判がおこされたりすることがある。」

(1) 御成敗式目を定めた人物の名前を書け。

(2) (1)の人物は何という地位についていたか。その職名を書け。

(3) 御成敗式目は、どんなことを定めた法律か。資料を参考にして書け。

(熊本県・滋賀県)

(1) 北条泰時

(2) 執権

(3) 公平な裁判を行うための基準

[問題 37]

御成敗式目について述べた文として正しいものを、次のア～エの中から1つ選べ。

- ア 幕府が大名の統制を強化するため、幕府の許可なく城を修理したり無断で婚姻を結んだりすることを禁止することなどを定めた。
- イ 幕府が裁判の基準などを将軍の配下の武士に示すため、それまで武士の社会で行われてきた慣習にもとづいて制定した。
- ウ 朝廷が全国を支配するしくみを整えるため、刑罰のきまりや政治を行う上でのきまりを中国の法律にならって制定した。
- エ 有力な大名が領国内の武士の行動を取りしめるため、けんかをした者については理由にかかわらず処罰することなどを定めた。

(埼玉県)

イ

[問題 38]

御成敗式目が制定された時期を、次のア～エから1つ選んで記号で書け。

平氏滅亡ーアー承久の乱ーイー元寇ーウー永仁の徳政令
ーエー建武の新政

(福井県改)

イ

[問題 39]

次のア～ウを年代の古い順に並べよ。

- ア 御成敗式目が制定される。
- イ 承久の乱がおこる。
- ウ 六波羅探題がおかれる。

(徳島県)

イ→ウ→ア

【】 鎌倉時代の文化・産業

【】 鎌倉文化

[東大寺南大門・金剛力士像]

[問題 40]

右は、東大寺南大門の両脇に置かれている 2 体の彫刻で、運慶が作ったものである。この彫刻の名称を書け。

(青森県)



金剛力士像

[問題 41]

東大寺南大門の両わきには、巨大な仏像が安置されている。この仏像の作者名を 1 人書け。

(福井県)

運慶

[問題 42]

鎌倉時代に、平氏によって焼かれたある寺院が再建された。この寺院の南大門には、金剛力士像がおさめられている。この寺院の名前を書け。

(秋田県)

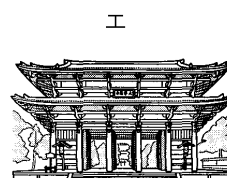


東大寺

[問題 43]

東大寺にある右図の作品がつくられた時代と同じ時代の建造物を、次のア～エから 1 つ選び、記号で答えよ。



エ



(島根県)

[問題 44]

東大寺について述べた次の文を読んで、(1)、(2)に答えよ。


東大寺は、平城京に都が置かれていた(①)時代に建てられた。その後、平安時代の終わりころに始まった源氏と(②)氏との争乱の中で焼けたが、鎌倉時代に再建され、南大門には、運慶らによってつくられ像が置かれた。

(1) ①、②に当てはまる語句をそれぞれ書け。ただし、②の語句については、漢字1字で書くこと。

(2) 下線部を何というか、I群の[]から選べ。また、この像を、II群のア～ウから選べ。

(I群) [阿弥陀如来像 釈迦三尊像 金剛力士像]

(II群)



(北海道)

(1)① 奈良
② 平
(2)I群：金剛力士像
II群：ア

[問題 45]

右の資料は、鎌倉時代の代表的な彫刻である。この彫刻にみられるような鎌倉文化の特徴を、簡潔に書け。

(奈良県)



(東大寺南大門の金剛力士像)

写実的で力強い文化

[文学]

[問題 46]

琵琶法師が各地をめぐって民衆に語った「祇園精舎の鐘の声」ではじまる軍記物語は何か。

(山口県)

平家物語

[問題 47]

右の資料は、武士や民衆の間に平家物語を広めた人を描いたものである。このような人を何と呼ぶか。その名称を書け。
(奈良県)



琵琶法師

[問題 48]

次のア～エのうち、平家物語を説明したものはどれか。1つ選んで、その記号を書け。

- ア 義理と人情の世界に生きる男女の悲劇を感動的に描いている。
- イ 地方の国ごとに、自然、産物、伝説などを記している。
- ウ 日本の国家のおこりを、神話や伝承・記録をもとにまとめている。
- エ 琵琶法師によって語られ、漢語や口語を交え、武士の活躍を描いている。

(香川県)

エ

[問題 49]

次の①～③にあてはまる文学作品を答えよ。

- ① 後鳥羽上皇の命令で藤原定家らが編集した和歌集。
- ② 鴨長明が社会のむなしさを説いた随筆。
- ③ 兼好法師が書いた随筆。

(補充問題)

① 新古今和歌集

② 方丈記

③ 徒然草

【】 鎌倉仏教

[鎌倉仏教の特色]

[問題 50]

鎌倉時代には、浄土宗などの仏教の新しい教えが、民衆や武士のあいだに広まったが、その理由として、最も関係のあるものを、次のア～エの中から1つ選べ。

エ

- ア 天皇が、仏教の力にたよって国家を守ろうとした。
- イ 中国から帰国した最澄や空海が、仏教の新しい教えを日本に伝えた。
- ウ 南蛮貿易の利益に着目した大名が、その教えを保護したり、信者となったりした。
- エ 新しい教えは、簡単でわかりやすく、実行しやすいものだった。

(茨城県)

[問題 51]

鎌倉時代に、浄土宗や日蓮宗などの新しい仏教が多くの武士や庶民に受け入れられた理由を、次の表を参考に書け。

わかりやすく、実行しやすかったから。

真言宗	山奥の寺で学問やさまざまな厳しい修行を行う。儀式や祈りで災いを取り除く。
浄土宗	一心に念仏を唱えることで救われる。
日蓮宗	題目を唱えることで、人も国家も救われる。

(山梨県)

[念仏の系統(浄土宗・浄土真宗・時宗)]

[問題 52]

阿弥陀如来を信じて念仏をとなえれば救われると説き、浄土宗を開いた僧は、次のうちのどれか。

法然

[空海 道元 最澄 法然]

(神奈川県)

[問題 53]

次の文中の①，②に適語を入れよ。

法然は、「南無阿弥陀仏」と(①)を唱えるだけで誰でも死後、極楽に行けると説き、(②)宗を開いた。

(熊本県改)

① 念仏

② 浄土

[問題 54]

①「阿弥陀仏の救いを信じる心さえあればよく、自分の罪を自覚した悪人こそ救われる」と説いた僧(法然の弟子)は誰か。

②また①が開いた宗派を何というか。

(鳥取県改)

① 親鸞


② 浄土真宗

[問題 55]

右の写真は、踊念仏で信仰を広めている様子をあらわしたものである。その宗派を、次から1つ選べ。

[日蓮宗 曹洞宗 浄土宗 時宗]

(鳥取県)



時宗

[問題 56]

右の図は、鎌倉時代に現在の岡山県に開かれた定期市で、ある人物が仏教の教えを広めるようすを描いたものである。この人物は、



諸国をまわり、念仏の札を

配ったり、踊念仏を取り入れたりすることで念仏の教えを広め、時宗を開いた。この人物は誰か。その人物名を書け。

(香川県)

一遍

[禅宗]

[問題 57]

右の写真は、石川県内のある寺において、この仏教で行われる修行を体験している様子を示したものである。この修行を特色とする仏教を何というか。漢字 2 字で答えよ。



禅宗

(石川県)

[問題 58]

栄西や道元が宋から伝えた仏教は武士に受け入れられ幕府によって保護された。この仏教の特色を述べたものとして最も適切なものを、次のア～エから 1 つ選び、その記号を書け。

- ア 南無阿弥陀仏と一心に念仏を唱える。
- イ 念仏の札の配布や踊念仏によって布教する。
- ウ 座禅によって自分でさとりを開く。
- エ 南無妙法蓮華経と題目を唱える。

(奈良県)

ウ

[問題 59]

次の文中の①、②の()内からそれぞれ適語を選べ。

栄西や道元が①(元／宋)から伝えた禅宗は、鎌倉時代に②(貴族／武士／農民)を中心に信仰された。

(熊本県)

① 宋

② 武士

[問題 60]

宋で禅宗を学び、日本に臨済宗を伝えるとともに、茶を飲む習慣をもたらした人物はだれか。次の[]から 1 つ選べ。

[日蓮 栄西 一遍 道元]

(新潟県)

栄西

[問題 61]

次の表は、宋から帰国した僧が開いた禅宗について示したものである。表中の a, b にあてはまる人物の組み合わせとして正しいものを、下のア～エから 1 つ選び、記号で答えよ。

イ

日本で開いた教え	臨済宗	曹洞宗
開いた僧	a	b

ア : a 栄西, b 親鸞 イ : a 栄西, b 道元
 ウ : a 法然, b 親鸞 エ : a 法然, b 道元
 (山口県)

[日蓮宗]

[問題 62]

法華経を信仰することで人も国家も救われると説き、新しい宗派を開いた人物は誰か答えよ。
 (島根県)

日蓮

[問題 63]

次のア～ウの文のうち、栄西と日蓮について説明したものはそれぞれどれか。

ア 念仏を唱え、阿弥陀仏にすがれば極楽浄土に往生できると説いた。
 イ 座禅によって自分の力で悟りを開く教えを伝えた。
 ウ 法華経を重んじ、題目を唱えれば、国家も人も救われると説いた。
 (千葉県)

栄西 : イ
日蓮 : ウ

[全般]

[問題 64]

鎌倉新仏教の宗派とそれを開いた人物の組み合わせとして正しいものを、次のア～エの中から 1 つ選び、記号を書け。

ア

ア 浄土宗－法然 イ 時宗－親鸞
 ウ 天台宗－栄西 エ 浄土真宗－日蓮
 (佐賀県)

[問題 65]

13 世紀、ききんや地震が相次いだことから、人々は仏教に新たな救いを求めるようになった。この時代に成立した仏教についての説明として誤っているものを、次のア～エのうちから 1 つ選び、記号で答えよ。

- ア 法然は、ひたすらに念仏を唱えれば、極楽浄土に往生できるとした。
- イ 栄西や道元が伝えた禅宗は、主に公家の間に広まっていった。
- ウ 一遍は踊念仏を行って各地へ布教し、時宗を開いた。
- エ 日蓮は、「南無妙法蓮華経」をとなえれば、人も国家も安らかになると説いた。

(沖縄県)

イ

[問題 66]

鎌倉時代には、新しい仏教の教えが広まった。鎌倉時代の仏教について述べた文として適切でないものを、次のア～エから 1 つ選び、記号で答えよ。

- ア 道元は、中国から、座禅を重んじる禅宗の教えを伝えた。
- イ 日蓮は、題目をとなえれば、人も国家も救われると説いた。
- ウ 栄西は、師の教えをもとに、浄土真宗(一向宗)を開いた。
- エ 法然は、一心に念仏をとなえれば、極楽往生できると説いた。

(山形県)

ウ

【】 農業や商工業の発達

[農業の発達]

[問題 67]

中世のわが国では、牛や馬を利用して田を耕すなど、さまざまな方法を用いた農業が行われたが、米の裏作として麦をつくることも行われた。このように、同じ耕地で年2回、別の作物をつくることを何というか。

(三重県)

二毛作

[問題 68]

鎌倉時代を含む中世の農業について述べているのはどれか。

ア 千歯こきなどの農具の改良が進み、肥料として干鰯が使用された。

イ 二毛作などが普及して生産性が高まり、各地で定期市が開かれた。

ウ 幕府などにより、海や沼地を干拓する大規模な新田開発が進んだ。

エ 国家から口分田が与えられ租という税が課せられた。

(栃木県)

イ

[問題 69]

次の文中の①，②に適語を入れよ。

鎌倉時代，農業技術が進歩し，農業生産は高まった。(①)
や馬を使った耕作や，裏作に麦を作る(②)が広まり，草や木を焼いた灰が肥料として使われた。

(補充問題)

① 牛

② 二毛作

[問題 70]

佳子さんは、中世における農業を説明するために、資料Ⅰ、Ⅱを準備した。この時代に農業生産が高まった背景として考えられることを、資料Ⅰ、Ⅱをもとに、「農業技術」という語を使って書け。

(資料Ⅰ)


鎌倉時代に出された法令(一部)

諸国の百姓は田の稲を刈り取った後、そこに麦をまいている。これを田麦とよんで、領主らはその年貢を徴収しているということである。

文永元(1264)年 4 月 26 日

(宮崎県)

(資料Ⅱ) 田おこしの様子



牛を使って田や畑を耕したり、裏作に麦をつくる二毛作が広まったりするなど、農業技術が向上した。

[商工業の発達]

[問題 71]

右は一遍上人絵伝という絵巻物の一部で、当時の(X)の様子が描かれている。このころには、交通の要所で(X)が開かれ、さまざまな品物が取引されていた。



(岡山県)

定期市

[問題 72]

右の絵は、ある絵巻物の一部である。この絵について述べた次の文の①、②の()の中から最も適当なものを、それぞれ選べ。

右の絵の中には、①(中世／近世)の②(武士の館／市)の様子が描かれている。

(愛媛県)



- | |
|------|
| ① 中世 |
| ② 市 |

[問題 73]

鎌倉時代の市では、中国から輸入された貨幣が使われていた。
この貨幣を製造していた中国の王朝を、次のから1つ選べ。

[宋 隋 清 漢]

(山口県)

宋

【】 元寇・鎌倉幕府の滅亡

【】 元寇

[チンギス・ハンとモンゴル帝国]

[問題 74]

次の文中の①，②に適語を入れよ。

13 世紀の初め，(①)はモンゴル民族を統一した。(①)の子や孫は，その国を広大なユーラシア大陸の東西にまたがる(②)帝国に成長させた。

(愛知県改)

① チンギス・ハン

② モンゴル

[問題 75]

鎌倉時代の世界のできごとを述べた文として，正しいものを，次のア～エから 1 つ選べ。

ア モンゴル帝国は，中央アジアからヨーロッパの東側を含む広い領域を支配した。

イ スペインやポルトガルは，キリスト教を広めることなどをめざし，新たな航路を開拓した。

ウ 新羅は，唐と結んで百済と高句麗をほろぼし，唐の勢力を追い出して朝鮮半島を統一した。

エ ムハンマドは，唯一の神アッラーを信仰するイスラム教を始めた。

(新潟県)

ア

[フビライ・ハンと元]

[問題 76]

次の文中の①，②に適語を入れよ。

(①)は，モンゴル帝国の都を大都(北京)に移し，国号を(②)と定めた。

(山梨県)

① フビライ・ハン

② 元

[問題 77]

元を訪れ「東方見聞録」の中で日本を「黄金の国ジパング」と紹介したイタリア人はだれか。

(和歌山県)

マルコ・ポーロ

[問題 78]

次の文中の①，②の()内より適語を選べ。

元軍は，中国で発明された①(火薬／蒸気機関)を，実戦に取り入れ日本への遠征でも使用した。(①)は，西方にも伝えられた。一方，イスラムの数学や天文学が中国にもたらされた。また，②(マルコ・ポーロ／バスコ・ダ・ガマ)のように中国を訪れるヨーロッパ人もあらわれた。

(千葉県)

① 火薬

② マルコ・ポーロ

[元寇]

[問題 79]

次の文章中の①，②に適語を入れよ。

元のフビライは，日本を従えようと，使者を送ってきた。このとき，将軍の補佐役を務める(①)という地位に就き，政治の実権をにぎっていた北条時宗がフビライの要求を拒否したため，元軍は 1274 年(文永の役)と 1281 年(弘安の役)の 2 度にわたって日本に攻め込んだ。この 2 度にわたる元の襲来をあわせて(②)という。

(福島県改)

① 執権

② 元寇

[問題 80]

次の各問いに答えよ。

(1) 元は 2 度にわたって日本に襲来したが，これをあわせて何というか。

(2) (1)のうち，日本への 1 度目の襲来を何の役というか。

(福井県改)

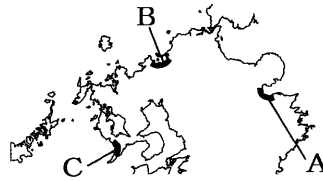
(1) 元寇

(2) 文永の役

[問題 81]

次の各問いに答えよ。

(1) 元軍が襲来したときの鎌倉幕府の執権は誰か。その人物名を書け。



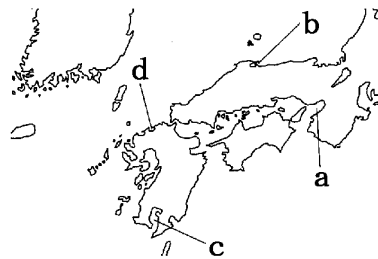
(2) 元軍の 2 度目の襲来に備えて石の防壁が築かれたのはどこか。略地図中の A～C から 1 つ選び、その記号を書け。

(奈良県)

(1) 北条時宗
(2) B

[問題 82]

国号を元とし、のちに宋をほろぼしたことで知られる皇帝 (①) は、朝鮮半島の (②) を征服した後、元軍を博多湾沿岸に上陸させた。




(1) 文中の①, ②に適語を入れよ。
 (2) 博多湾の位置を略地図の a～d から選べ。

(北海道改)

(1)① フビライ・ハン
② 高麗
(2) d

[問題 83]

右の資料は鎌倉時代に元が日本をおそったできごとを描いたものである。これを見て、次の各問いに答えよ。



(1) このできごとは何とよばれるか。漢字 2 字で答えよ。
 (2) 元軍は、(①) 戦法と (②) を使った武器で幕府軍をなやました。文中の①, ②に適する語をそれぞれ漢字 2 字で答えよ。

(沖縄県改)

(1) 元寇
(2)① 集団
② 火薬

[問題 84]

右の絵は元軍の最初の来襲における戦いのようすを描いたものである。この戦いで日本軍が苦戦をした理由を、この絵を参考にし、元軍の戦法と、日本の武士がそれまで見たことのない元軍の武器に着目して、簡単に書け。



元軍が集団戦法と火薬を使った武器を使用したから。

(愛媛県)

[問題 85]

モンゴル帝国や日本について、誤っているものを次のア～エから1つ選び、記号で答えよ。

- ア モンゴル民族から出たチンギス・ハンは、民族を統一して国家を建設した。
- イ 5代目のフビライ・ハンは、都を大都に移し、国号を元と定めて皇帝となった。
- ウ 元の軍は、集団戦法とすぐれた火器により、日本軍をなやましたすえ、引きあげた。
- エ 元の襲来を防いだ武士たちは結束して、やがて鎌倉幕府を成立させた。

エ

(宮崎県)

[問題 86]

次のア～エを、時期の古いきごとから順に並べかえ、記号で答えよ。

- ア 御成敗式目が制定された。
- イ 元のフビライが日本に遠征軍を送った。
- ウ 京都に六波羅探題がおかれた。
- エ 後鳥羽上皇が幕府を倒すため挙兵した。

エ→ウ→ア→イ

(山形県)

【御家人の不満】

【問題 87】

元寇のあと、戦った御家人たちは、幕府に恩賞としての(X)を求めたが、幕府にはあたえる十分な(X)はなかった。そのため、御家人たちの不満は高まっていった。X に適語を入れよ。

(山梨県)

土地

【問題 88】

次の文は、蒙古襲来(元寇)が、鎌倉幕府の力の衰退につながった理由について述べたものである。X にあてはまる語句を書け。

蒙古襲来(元寇)に際し、御恩と(X)の関係で結ばれていた御家人は、元軍と戦いその費用を負担したが、幕府は彼らに十分な領地を与えることができなかった。このことにより、幕府に対する不満が高まり、幕府の力の衰退につながっていった。

(福島県)

奉公

【問題 89】

元との戦いに参加した御家人は、鎌倉幕府に対して不満をもつようになった。その理由を、将軍と御家人の主従関係のしくみに関連づけて、簡単に書け。

(静岡県)

奉公として元軍との戦いに参加したのに、恩賞の土地がもらえなかったため。

【問題 90】

御家人の多くは、元との戦いで活躍したにもかかわらず、十分な恩賞がもらえなかった。その理由を簡潔に述べよ。

(宮城県)

国内の戦と違い、幕府は恩賞として与えるための新たな土地を獲得したわけではなかったから。

【】 鎌倉幕府の滅亡

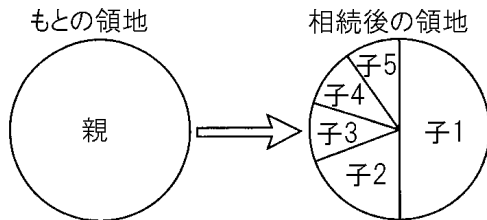
[分割相続・徳政令]

[問題 91]

花子さんは、永仁の徳政令が出された背景について調べ、次のようにまとめた。次の資料を参考に、(まとめ)の①に当てはまる内容を書け。また、②に当てはまる中国の王朝名を、あとの[]の中から1つ選べ。

① 分割相続した
② 元

(資料) 鎌倉時代の御家人の土地相続の例



(まとめ)

御家人の領地は、複数の子どもが(①)。さらに、2度にわたる(②)との戦いがあり、御家人の生活は苦しくなった。

[隋 宋 元 明]

(茨城県)

[問題 92]

生活が苦しくなった御家人たちを救うなどの目的で、幕府は徳政令をだした。御家人たちの生活が苦しくなった原因として最も適切なものを、次のア～エから1つ選び、記号を書け。

イ

ア 冷害と浅間山の噴火が重なった天明のききんがおこったから。

イ 御家人たちの領地は分割相続されたため、支配する領地がしだいに小さくなったから。

ウ 定期市が開かれる日数が増え、取り引きに明銭が使用され、貨幣経済(商品経済)が浸透したから。

エ 元寇に対する警備としての防人の負担が大きかったから。

(長野県)

[問題 93]

花子さんが鎌倉時代の御家人の生活について調べたところ、先生が資料 1, 2 を示してくれた。13 世紀は資料 1 のような領地の相続の方法が一般的であったが、14 世紀前半には資料 2 のような相続の方法が見られるようになった。なぜこのような変化が起きたのか、①変化の内容と、②その理由を書け。

(資料 1)

亡くなった夫から相続した土地を次のように相続させる。…豊後国(大分県)大野郡の荘園の志賀村の半分は、子ども A が相続し、残りの半分は、子ども B が相続する。豊後国大野郡の荘園の上村の半分は、子ども C が相続し、残りの半分は、子ども D が相続する。…

(1240 年)

(資料 2)

領地は、すべて跡取りの子に譲ることとする。…今後は、子孫の一人に相続させること。

…(1330 年)

(福井県)

① 領地の相続が分割相続から単独相続に変わった。

② 一人あたりの土地が小さくなり、御家人の生活が苦しくなったから。

[問題 94]

元寇での戦いなどでますます苦しくなっていった御家人の生活を救うために、幕府が出した法令として最も適当なものはどれか。

[大宝律令 御成敗式目 徳政令 外国船打払令]

(鹿児島県)

徳政令

[問題 95]

鎌倉幕府は、生活が苦しくなった御家人を救うために徳政令を出した。このとき出された徳政令の内容を簡潔に書け。

(奈良県)

御家人の借金を帳消しにする。

[問題 96]

鎌倉幕府が出した徳政令の目的を書け。

(熊本県)

苦しくなった御家人を助けるため。

【問題 97】

元寇後の鎌倉時代の社会を述べたものはどれか。次のア～エから1つ選んで、その記号を書け。

- ア 源義家が、東北地方の大きな戦乱をしずめ、東国に勢力をのばした。
- イ 都市では、米の買いしめをした商人に対する打ちこわしがおこった。
- ウ 幕府は永仁の徳政令を出すなど、生活に苦しむ御家人を救おうとした。
- エ 全国の土地が、石高という統一的な基準であらわされるようになった。

(香川県)

ウ

【問題 98】

鎌倉幕府が行った次のア～エのことがらを、年代の古い順に左から並べて書け。

- ア 朝廷の監視などを強めるために京都に六波羅探題を置いた。
- イ 生活が苦しくなった御家人を救うために徳政令を出した。
- ウ 二度目のモンゴル軍の来襲にそなえ博多湾沿岸に石の防壁を築いた。
- エ 裁判の基準を御家人に示すために御成敗式目をつくった。

(福島県)

ア→エ→ウ→イ

【鎌倉幕府の滅亡】

【問題 99】

鎌倉幕府への反感が強まる中、政治の実権を朝廷に取りもどすために兵を挙げ、鎌倉幕府をほろぼした天皇は誰か。

(補充問題)

後醍醐天皇

[問題 100]

次の文中の①，②の()内より適語を選べ。

御家人たちの生活は苦しくなり，領地を手放す者も多くなった。幕府は①(分国法／徳政令)を出して御家人を救おうとしたが，失敗に終わった。また，武士の中には，荘園におし入ったり，年貢をうばったりする②(倭寇／悪党)とよばれる集団があらわれたが，幕府はその集団の取りしまりを十分に行うことができず，しだいに幕府の力はおとろえていった。

(新潟県)

① 徳政令

② 悪党

[問題 101]

次の各問いに答えよ。

- (1) 近畿地方中心に鎌倉幕府に従わない武士が成長し，年貢をうばう武士も出てきた。このような武士は何と呼ばれていたか。
- (2) (1)を代表する武士で，鎌倉幕府を倒すのに功績のあった人物を1人あげよ。
- (3) 幕府にそむいて，京都の六波羅探題を攻めた有力な御家人は誰か。
- (4) (2)や(3)などを味方につけて，1333年に鎌倉幕府を倒した天皇は誰か。

(補充問題)

(1) 悪党

(2) 楠木正成

(3) 足利尊氏

(4) 後醍醐天皇
